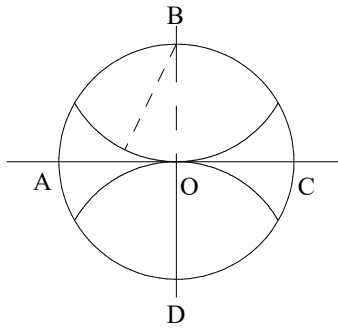
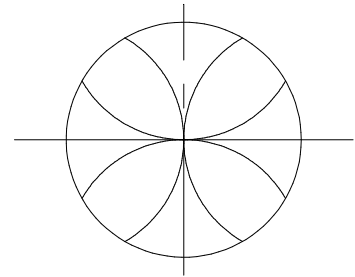


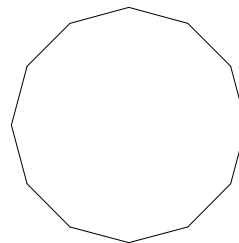
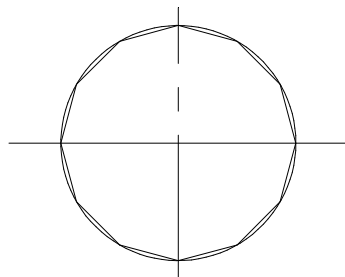
Soit un cercle.



De centre B et D tracez un arc de cercle de rayon du cercle initial.  
On obtient quatre points.



De centre A et C tracez un arc de cercle de rayon du cercle initial.  
On obtient quatre autres points.



Ainsi toutes les intersections du cercle permettent de tracer le polygone.

## DODÉCAGONNE.



**Association de Compagnons  
Passants Tailleurs de Pierre**

[www.compagnons-pierre.org](http://www.compagnons-pierre.org)

**COURS DE TRAIT - NIVEAU 0**

GEOMETRIE PLANE

ECHELLE

HORS ECHELLE

FOLIO

1-1

TRAIT

0 - 4 - H